

يتكون هذا الاختبار من (100) سؤال موضوعي من نوع الاختيار من متعدد، الإجابة عنها إجبارية. ظلل بقلم الرصاص بشكل غامق الدائرة التي تشير إلى الإجابة الصحيحة في المكان المخصص لذلك في نموذج الإجابة المرفق.

## الفيزياء

\*تسارع الجاذبية الأرضية  $g = 10 \text{ m/s}^2$

\*ثابت كولوم  $k_e = 9 \times 10^9 \text{ N.m}^2/\text{C}^2$

\*شحنة الإلكترون  $e = 1.6 \times 10^{-19} \text{ C}$

1. إذا علمت أن المتجهين  $\vec{A} = (-\hat{i} + 3\hat{j})$  و  $\vec{B} = (2\hat{i} + \hat{j})$  فإن المتجه  $2\vec{A} + \vec{B}$  يساوي:

أ-  $-4\hat{i} + 4\hat{j}$       ب-  $-4\hat{i} + 7\hat{j}$

ج-  $7\hat{j}$       د-  $-4\hat{i}$

2. متجهان  $\vec{A} = 2\hat{i} + 5\hat{j} - 4\hat{k}$  ،  $\vec{B} = -2\hat{i} - 3\hat{j} - 5\hat{k}$  فإن حاصل الضرب القياسي  $\vec{A} \cdot \vec{B}$  يساوي:

أ- 1      ب-  $-4\hat{i} - 15\hat{j} + 20\hat{k}$

ج- 11      د-  $2\hat{j} - 9\hat{k}$

3. تتسارع سيارة بحيث تتغير سرعتها من سرعة  $20 \text{ m/s}$  إلى سرعة  $40 \text{ m/s}$  في 4 ثوان. ما هو تسارعها؟

أ-  $0.2 \text{ m/s}^2$       ب-  $5 \text{ m/s}^2$

ج-  $4 \text{ m/s}^2$       د-  $10 \text{ m/s}^2$

4. عندما يسقط جسم سقوطاً حراً فإن:

أ- سرعته تزداد      ب- تسارعه يزداد

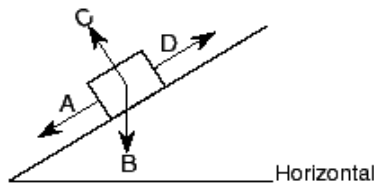
ج- تسارعه يقل      د- كل من أ و ب صحيحان

5. جسم كتلته 10 كغم، أثرت عليه قوة مقدارها 20 نيوتن. فإن تسارعه يساوي:

أ-  $2 \text{ m/s}^2$       ب-  $200 \text{ m/s}^2$

ج-  $0.5 \text{ m/s}^2$       د-  $20 \text{ m/s}^2$

6. في الشكل أدناه، صندوق ساكن على سطح مائل. أي متجه يمثل إتجاه القوة العمودية المؤثرة على الصندوق؟



أ- A      ب- B

ج- C      د- D

7. جسم كتلته 50 كغم يستقر على الأرض في حالة السكون، إذا كان معامل الإحتكاك السكوني بين الجسم والأرض يساوي 0.5 فإن القوة الأفقية اللازمة لجعل الجسم على وشك الحركة تساوي:

أ- 250 N      ب- 500 N

ج- 125 N      د- 1000 N

8. يتسارع جسم في حركة دائرية منتظمة بمعدل  $2 \text{ m/s}^2$  على دائرة نصف قطرها 18 م. فإن سرعة الجسم بوحدة (م/ث) تساوي:

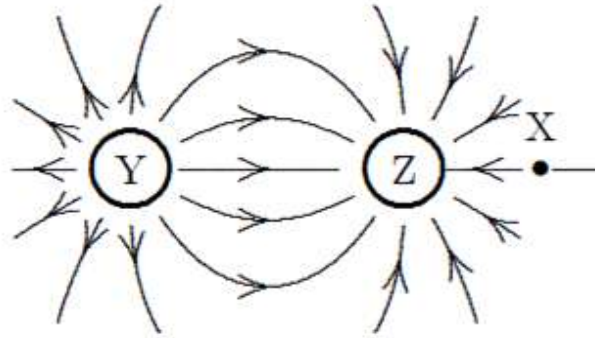
أ- 36      ب- 9

ج- 6      د- 3

9. تتحرك سيارة بسرعة مقدارها  $20 \text{ m/s}$  على طول المسار المبين في الشكل أدناه. إذا أهمل الاحتكاك، فإن سرعته بعد صعوده التل على ارتفاع  $15 \text{ متر}$  تساوي؟



- أ-  $17 \text{ m/s}$   
 ب-  $7 \text{ m/s}$   
 ج-  $5 \text{ m/s}$   
 د-  $10 \text{ m/s}$
10. أي من الكميات التالية لها نفس وحدة الطاقة:  
 أ- القدرة  
 ب- القوة  
 ج- الشغل  
 د- الزخم الخطي
11. ما هي القدرة اللازمة لرفع جسم كتلته  $50 \text{ كغم}$  مسافة عمودية مقدارها  $5 \text{ متر}$  في  $20 \text{ ثانية}$ ؟  
 أ-  $12.5 \text{ watt}$   
 ب-  $125 \text{ watt}$   
 ج-  $25 \text{ watt}$   
 د-  $250 \text{ watt}$
12. تتحرك كرة بسرعة مقدارها  $6 \text{ m/s}$ ، ولها كمية تحرك  $24 \text{ kg.m/s}$  ما هي كتلة الكرة؟  
 أ-  $0.3 \text{ kg}$   
 ب-  $4 \text{ kg}$   
 ج-  $24 \text{ kg}$   
 د-  $144 \text{ kg}$
13. وضع جسم كتلته  $1 \text{ كغم}$  في الموقع  $(0,0)$  ووضع جسم آخر كتلته  $2 \text{ كغم}$  في الموقع  $(3,0)$ . فإن موقع مركز الكتلة للنظام هو:  
 أ-  $(0,0)$   
 ب-  $(1,0)$   
 ج-  $(1.5,0)$   
 د-  $(2,0)$
14. شحنتان كهربائيتان متماثلتان، تفصل بينهما مسافة  $2 \text{ متر}$ . إذا كانت القوة الكهربائية المتبادلة بينهما  $4 \text{ نيوتن}$ . فإن قيمة أي من الشحنتين تساوي:  
 أ-  $1.8 \times 10^{-9} \text{ C}$   
 ب-  $2.1 \times 10^{-5} \text{ C}$   
 ج-  $4.2 \times 10^{-5} \text{ C}$   
 د-  $1.9 \times 10^5 \text{ C}$
15. يبين الشكل المجاور خطوط المجال الكهربائي في منطقة تحتوي شحنتين نقطيتين (Y و Z)، فإن:



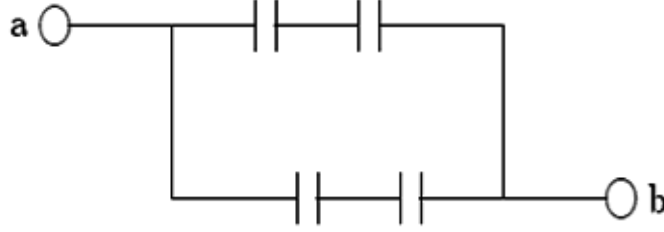
- أ- Y شحنة سالبة و Z شحنة موجبة  
 ب- قيمة المجال الكهربائي هو نفسه في كل مكان  
 ج- Y شحنة موجبة و Z شحنة سالبة  
 د- Y و Z لهما نفس الإشارة

16. شحنتان نقطيتان  $q_1 = 25 \text{ nC}$  و  $q_2 = -75 \text{ nC}$  تفصل بينهما مسافة 20 سم. فإن الجهد الكهربائي في منتصف المسافة بينهما يساوي:

ا- -2.25 kV      ب- -4.5 kV

ج- -9 kV      د- -18 kV

17. الشكل أدناه يبين أربع مكثفات متماثلة (مواصلة كل منها  $6 \mu\text{F}$ ). فإن المواصلة المكافئة تساوي:



ا-  $3 \mu\text{F}$       ب-  $4 \mu\text{F}$

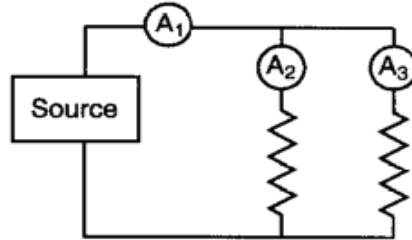
ج-  $9 \mu\text{F}$       د-  $6 \mu\text{F}$

18. مكثف مشحون يخزن شحنة مقدارها  $10 \text{ mC}$  على فرق جهد  $40\text{V}$ . فإن الطاقة المختزنة في المكثف:

ا-  $200 \text{ J}$       ب-  $400 \text{ J}$

ج-  $2.5\text{J}$       د-  $0.2\text{J}$

19. وصلت ثلاثة أميترات في دائرة كهربائية كما في الشكل أدناه. إذا كانت قراءة الأميتر ( $A_1$ ) هي 5 أمبير و قراءة الأميتر ( $A_2$ ) هي 2 أمبير، فما هي قراءة الأميتر ( $A_3$ )؟



ا-  $1.0 \text{ A}$       ب-  $3.0 \text{ A}$

ج-  $2.0 \text{ A}$       د-  $7.0 \text{ A}$

20. في الشكل أدناه، إذا كانت قيمة التيار في المقاومة ( $3 \Omega$ ) يساوي 4 أمبير، فإن فرق الجهد بين النقطتين 1 و 2 يساوي:



ا-  $12\text{V}$       ب-  $0.8\text{V}$

ج-  $1.25\text{V}$       د-  $20\text{V}$

### الرياضيات

21. مجموعة الحل للمتباينة  $2 \geq 3 - x \geq -1$  هي:

ا-  $[-1, 4]$       ب-  $[1, 4]$

ج-  $[-4, 1]$       د-  $[-4, -1]$

22. الرأس الرابع للمربع الذي رؤوسه الثلاثة  $(2, -2)$ ،  $(-1, -2)$ ،  $(2, 1)$  هو:

أ-  $(1, -1)$       ب-  $(1, 1)$

ج-  $(-1, -1)$       د-  $(-1, 1)$

23. المسافة بين النقطتين  $A(-1, 6)$ ،  $B(3, -2)$  تساوي:

أ-  $\sqrt{80}$       ب-  $\sqrt{48}$

ج-  $\sqrt{20}$       د-  $\sqrt{12}$

24. ميل الخط الذي زاوية ميله  $240^\circ$  يساوي:

أ-  $-\sqrt{3}$       ب-  $\frac{1}{\sqrt{3}}$

ج-  $-\frac{1}{\sqrt{3}}$       د-  $\sqrt{3}$

25. معادلة الخط الذي يمر بالنقطتين  $(1, -1)$ ،  $(2, 1)$  هي:

أ-  $2y + x - 3 = 0$       ب-  $y - 2x + 3 = 0$

ج-  $2y - x + 3 = 0$       د-  $y + 2x - 3 = 0$

26. معادلة الدائرة التي مركزها  $(1, -2)$  ونصف قطرها  $\sqrt{3}$  هي:

أ-  $(y+2)^2 + (x+1)^2 = \sqrt{3}$       ب-  $(y+2)^2 + (x-1)^2 = 3$

ج-  $(y-2)^2 + (x+1)^2 = 3$       د-  $(y-2)^2 + (x-1)^2 = \sqrt{3}$

27. إحداثيا رأس القطع المكافئ  $y = 3 + x^2$  هما:

أ-  $(0, 3)$       ب-  $(0, -3)$

ج-  $(3, 0)$       د-  $(-3, 0)$

28. مجال الاقتران  $f(x) = \frac{2}{x^2 + 1}$  هو:

أ-  $(-\infty, 1)$       ب-  $(-1, 1)$

ج-  $(-1, \infty)$       د-  $(-\infty, \infty)$

29. مدى الاقتران  $f(x) = 4 - \sqrt{x}$  هو:

أ-  $[4, \infty)$       ب-  $(-\infty, 4]$

ج-  $[1, 4]$       د-  $[-1, 4]$

30. إذا كان  $f(x) = x + 2$  و  $g(x) = \sqrt{x-1}$  فإن  $(f \circ g)(x)$  تساوي:

أ-  $2 + \sqrt{x-1}$       ب-  $\sqrt{x+1}$

ج-  $1 + \sqrt{x+2}$       د-  $2 - \sqrt{x+1}$

31. قيمة النهاية  $\lim_{x \rightarrow 1} \frac{x^2 + x - 2}{x^2 - 1}$  تساوي:

32. قيمة النهاية  $\lim_{x \rightarrow \infty} \frac{x+3}{2x-1}$  تساوي:
- أ- 0  
ب- 1  
ج-  $\frac{3}{2}$   
د-  $\infty$
33. نقاط الانفصال للاقتران  $f(x) = \frac{x+2}{x^2-9}$  هي:
- أ- -1  
ب- 2  
ج-  $\frac{1}{2}$   
د-  $-\infty$
34. إذا كان  $y = (2x+1)(3-x)$  فإن  $\frac{dy}{dx}$  تساوي:
- أ-  $5-4x$   
ب- -2  
ج-  $7+4x$   
د- 3
35. إذا كان  $f(x) = \cos^2 x$  فإن  $f'(x)$  تساوي:
- أ-  $\cos x \sin^2 x$   
ب-  $-2 \cos x \sin x$   
ج-  $2 \cos x \sin x$   
د-  $-\sin x \cos^2 x$
36. القيمة الصغرى للاقتران  $f(x) = x^2 - 2x - 3$  في الفترة  $[-1, 3]$  هي:
- أ- 0  
ب- 3  
ج- -4  
د- 1
37. القيمة العظمى للاقتران  $f(x) = 1 - x^4$  في الفترة  $[-2, 1]$  هي:
- أ- 2  
ب- 1  
ج- -2  
د- -1
38. نتيجة حل التكامل  $\int \left(2x - \frac{1}{x^2}\right) dx$  تساوي:
- أ-  $2 + \frac{1}{x} + c$   
ب-  $-2 + \frac{1}{x^2} + c$   
ج-  $x^2 - \frac{1}{x^3} + c$   
د-  $x^2 + \frac{1}{x} + c$
39. نتيجة حل التكامل  $\int \cos x \sin^2 x dx$  تساوي:

$$\frac{1}{2} \cos^2 x + c \quad \text{ب-} \quad \frac{1}{3} \sin^3 x + c \quad \text{ا-}$$

$$\frac{1}{2} \sin x \cos x + c \quad \text{د-} \quad \frac{1}{3} \sin^3 x \cos x + c \quad \text{ج-}$$

40. المساحة المحصورة بين المنحنيين  $y = x - 2$  ،  $y = -x^2$  في الفترة  $[-2, 1]$  تساوي:

$$\frac{8}{3} \quad \text{ب-} \quad \frac{5}{2} \quad \text{ا-}$$

$$\frac{5}{3} \quad \text{د-} \quad \frac{9}{2} \quad \text{ج-}$$

### كيمياء عامة

41. عدد تأكسد الهالوجين في المركب  $\text{HIO}_4$  هو :

$$+ 5 \quad \text{ب-} \quad + 3 \quad \text{ا-}$$

$$\text{zero} \quad \text{د-} \quad + 7 \quad \text{ج-}$$

42. في التفاعل  $\text{Ca(OH)}_2 + 2\text{HNO}_3 \longrightarrow \text{Ca(NO}_3)_2 + 2\text{H}_2\text{O}$

إذا تم وضع 10 مول من  $\text{HNO}_3$  و 10 مول  $\text{Ca(OH)}_2$  في وعاء التفاعل فإن عدد مولات الماء الناتج بعد انتهاء التفاعل هو :

$$10 \quad \text{ب-} \quad 5 \quad \text{ا-}$$

$$20 \quad \text{د-} \quad 2.5 \quad \text{ج-}$$

43. عند توزيع الالكترونات على المستويات الفرعية فإن مستوى الفرعي (P) يحتوي على عدد أفلاك يساوي:

$$6 \quad \text{ب-} \quad 1 \quad \text{ا-}$$

$$40 \quad \text{د-} \quad 3 \quad \text{ج-}$$

44. العالم الذي يعرف الحامض على انه مركب كيميائي اذا اذيب في الماء ينتج ايونات الهيدروجين هو :

$$\text{برونستد} \quad \text{ب-} \quad \text{ارينيوس} \quad \text{ا-}$$

$$\text{لوييس} \quad \text{د-} \quad \text{لوري} \quad \text{ج-}$$

45. مركب صيغته الاولى  $\text{C}_3\text{H}_3\text{N}$  و وزنه الجزيئي 123 الصيغة الجزيئية للمركب هي :

$$\text{C}_3\text{H}_3\text{N}_4 \quad \text{ب-} \quad \text{C}_4\text{H}_6\text{N}_2 \quad \text{ا-}$$

$$\text{C}_6\text{H}_9\text{N}_3 \quad \text{د-} \quad \text{C}_2\text{H}_3\text{N} \quad \text{ج-}$$


46. في المعادلة  $\text{Zn} + 2\text{HCl} \rightarrow \text{ZnCl}_2 + \text{H}_2$  العنصر الذي تاكسد هو :

$$\text{الكلور} \quad \text{ب-} \quad \text{الهيدروجين} \quad \text{ا-}$$

$$\text{لم يحدث تاكسد} \quad \text{د-} \quad \text{الخاصين} \quad \text{ج-}$$

47. يعرف المول من المادة بأنه:

- 1- عدد ذرات المركب  
2- عدد جزيئات المركب  
3- عدد ذرات العنصر  
4- كمية المادة التي تحتوي على عدد افوجادرو من الجزيئات أو الذرات
- 48 كمية الكهرباء المارة في محلول  $\text{CuSO}_4$  نتيجة مرور تيار شدته 0.1 أمبير لمدة ساعة هي :
- 1- 360 watt  
2- 360 Joule  
3- 360 coulomb  
4- 0.1 coulomb
- 49 النظام المعزول هو النظام الذي :
- 1- يعمل في الفراغ  
2- معزول ماديا  
3- معزول ماديا وحراريا  
4- معزول حراريا فقط
- 50 يتحد كل من غاز النيتروجين والاكسجين لتكوين ثاني اكسيد النيتروجين حسب التفاعل التالي :
- $$\text{N}_2(\text{g}) + 2\text{O}_2(\text{g}) \rightarrow 2\text{NO}_2(\text{g}) \quad \Delta H_T = \text{????}$$
- $$\text{N}_2(\text{g}) + \text{O}_2(\text{g}) \rightarrow 2\text{NO}(\text{g}) \quad \Delta H = +181 \text{ KJ}$$
- $$2\text{NO}(\text{g}) + \text{O}_2(\text{g}) \rightarrow 2\text{NO}_2(\text{g}) \quad \Delta H = -131 \text{ KJ}$$
- وبناءً عليه تكون قيمة  $\Delta H_T$  حسب قانون هس :
- 1- +50JK  
2- -50JK  
3- +44JK  
4- 0.00JK
- 51 كمية الحرارة اللازمة لرفع درجة حرارة 250g من الماء من  $20\text{C}^0$  الى  $56\text{C}^0$  ، علماً بأن الحرارة النوعية للماء تساوي  $4.18 \text{ J/g.C}^0$  هي :
- 1- 34JK  
2- 32 KJ  
3- 38JK  
4- 30JK
- 52 الصيغة الكيميائية  $\text{K}_2\text{CrO}_4$  هي للمركب :
- 1- كروميك البوتاسيوم  
2- كروموز البوتاسيوم  
3- كرومات البوتاسيوم  
4- دايكرومات البوتاسيوم
- 53 تفاعلت عينه من  $\text{Mg}(\text{OH})_2$  كتلتها 50.6 g مع 45 g HCl وكان الناتج الفعلي من  $\text{MgCl}_2$  هو 55.4 g وبهذا فان المردود المئوي يساوي (الاوران الذرية (Mg=24, Cl=35.5, H=1, O=16):
- 1- 0.945 %  
2- 95.4 %  
3- 88 %  
4- 94.5 %
- 54 تتكون اقطاب بطارية السيارة من :




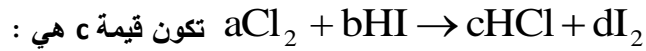
55. إذا علمت ان التركيب الالكتروني للمستوى الاخير للأيون  $A^{+2}$  هو  $2P^6$  فإن العدد الذري هو:



56. كتلة الكلور في  $CaCl_2$  تساوي (الكتل الذرية  $Ca=40, Cl=35.5$ ) :



57. عند اجراء موازنه للمعادلة



58. لنظير العنصر  $^{59}_{27}X$  عدد البروتونات والنيوترونات في النظير هي:



59. تأكسد العنصر يتمثل في:



60. التركيز الذي يعبر عنه بعدد مولات المادة المذابة في لتر واحد من المحلول يعرف بـ :



### كيمياء عضويه

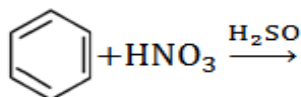
61. يتم الحصول على الهكسانول الحلقي عن طريق هدرجة:



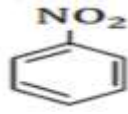
62. التفاعل بين حامض عضوي وكحول يسمى تفاعل :



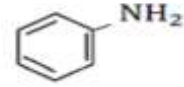
63. ناتج تفاعل النترنة بالاضافة الى الماء هو :



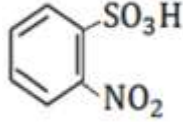




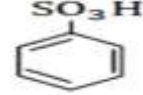
-ب-



-ا-



-د-

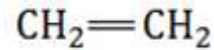


-ج-

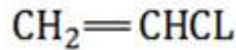
64. الصيغة الكيميائية للاثيلين هي:



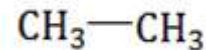
-ب-



-ا-



-د-



-ج-

65. عند تفاعل كواشف جرينارد مع الالدهيدات العليا غير الفورمالدهايد فإن المشتق العضوي الناتج هو:

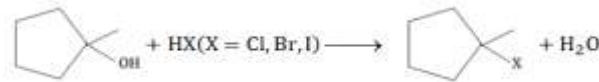
-ب- كحول ثانوي

-ا- كحول اولي

-د- الكان ثالثي

-ج- كحول ثالثي

66. في التفاعل التالي هاليد الهيدروجين الاكثر نشاطا وقابليه للتفاعل هو :



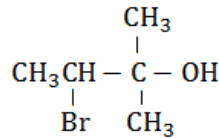
-ب- HBr

-ا- HCl

-د- الهاليدات الثلاثة لها نفس القدرة على التفاعل

-ج- HI

هو :



67. الاسم العلمي للمركب

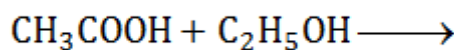
-ا- 3-برومو-2-ميثيل-2-بيوتانول

-ب- 2-برومو-3,3-ثنائي ميثيل-3-بروبانول

-ج- 2-برومو-3-ميثيل-3-بيوتانول

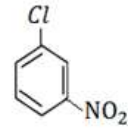
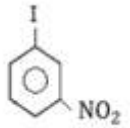
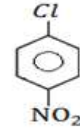
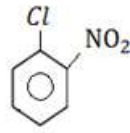
-د- 1,1-ثنائي ميثيل-1-بروبانول

68. نواتج التفاعل:

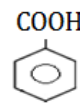
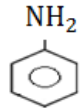
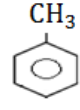
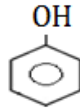




69. الصيغة البنائية للمركب المسمى m-كلورونيتروبنزين هي :



70. الصيغة البنائية التي تمثل مركب الانيلين هي :



71. لا تذوب الالكينات في الماء وذلك بسبب:

ا- قطبيتها العاليه

ب- قلة قطبيتها

ج- لان كثافتها أعلى من الماء

د- تاثير الرابطة المزدوجة بها

72. تتفاعل الالكينات المنشطة مع الماء في وجود حامض، وحسب قاعدة ماركونفكوف فان المشتق العضوي الناتج يكون:

ب- حامض عضوي

ا- الدهايد

د- كيتون

ج- الكحول

73. من الصيغ التاليه، الصيغه التي تشير الى الكان هي :

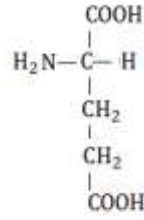
ب-  $C_4H_4$

ا-  $C_6H_{12}$

د-  $C_{10}H_{18}$

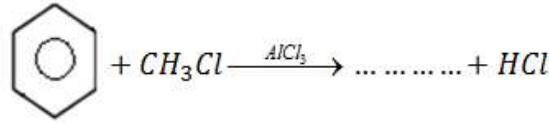
ج-  $C_3H_8$

74. الصيغة البنائية التاليه هي للحامض الاميني المسمى حامض :

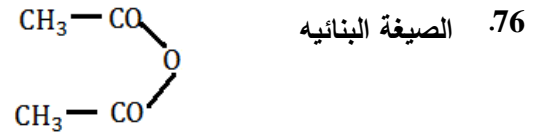


- ا- الجلوماتيك  
ب- الاسبارتيك  
ج- الانين  
د- جليسين

75. الناتج الرئيسي الناتج عن تفاعل فريدل-كرافت هو:



- ا- الانيلين  
ب-  $\text{CH}_3$   
ج-  $\text{Cl}$   
د- الفينول



هي للمركب :

- ا- انهيدريد حمض الفثاليك  
ب- انهيدريد حمض الخليك (الاسيتيك)  
ج- داي مثيل كيتون  
د- بروبانول

77. درجات حراره غليان الاثيرات مقارنة مع درجات غليان الكحولات التي تقاربها في الكتلة الجزيئية تكون:

- ا- أعلى  
ب- متساوي  
ج- اقل كثيرا  
د- أعلى كثيرا

78. تتميز ذرات الكربون بقدرتها على الاتحاد فيما بينها الى مدى غير محدود وهذا ليس متاحا لذرات العناصر الاخرى وذلك بسبب:

- ا- الرابطة C-C قوية جدا مقارنة مع روابط العناصر الاخرى  
ب- كثافة الكربون العاليه  
ج- ضعف الرابطة C-C مقارنة مع الروابط الاخرى  
د- قدرتها على الارتباط مع العناصر الاخرى بروابط ايونية

79. الصيغة البنائية هي للمركب:



أ- فينول -ب- سايكلوهكسانول (الهكسانول الحلقي)

ج- كحول البنزين -د- هيدروكسيد الهكسان

80. من اشهر السكريات العديدة هوالنشأ والصيغه العامة له هي:

أ-  $(C_6H_{12}O_5)_n$  -ب-  $(C_5H_{10}O_5)_n$

ج-  $(C_6H_{10}O_5)_n$  -د-  $(C_6H_{10}O_6)_n$

### كيمياء تحليلية

81. التحليل الذي يعتمد على تقدير كمية المادة في العينه بقياس وزنها أو فصل احد مكوناتها بأي طريقة فصل هو التحليل:

أ- الكولومتري -ب- الكهربائي الوزني

ج- الكمي الوزني -د- الكيميائي الفيزيائي

82. مدى قيمة PH الذي يحصل فيه تغير لون كاشف الميثيل البرتقالي:

أ- 4.6-4.3 -ب- 4 -2.9

ج- 3.3 - 4.2 -د- 9 - 7

83. تم تخفيف 10 مللتر من محلول حامض  $H_2SO_4$  تركيزه الوزني 98% وكثافته 1.84 غم/مللتر بالماء المقطر الى حجم 250 مللتر، عيارية (أساسيه) هذا المحلول :

أ- 1.47 N -ب- 2.94 N

ج- 0.147 N -د- 0.294 N

84. ارتفاع قيمة الوزن المكافئ للمادة القياسيه في التحليل الحجمي يؤدي:

أ- زيادة الخطأ النسبي في عملية الوزن

ب- تقليل الخطأ النسبي في عملية الوزن

ج- لا تأثير للزيادة أو النقصان على الخطأ النسبي

د- يزداد الخطأ النسبي في حالات وينقص في حالات أخرى

85. كلما ازدادات الفروق بين القراءات المتكررة فهذا يعني :

أ- ازدياد دقة القياس -ب- نقصان دقة القياس

ج- ازدياد ضبط (صحة) القياس -د- نقصان ضبط (صحة) القياس

86. عند اضافة الماء الى محلول HCl فان قيمة pH :

أ- تزداد -ب- تقل

ج- تبقى ثابتة -د- تزداد ثم تعود الى القيمة الاصلية

87. الهدف من عملية غسل راسب AgCl بمحلول HNO<sub>3</sub> هو لمنع:

- أ- عودة الراسب الى الوضع الغروي  
ب- حدوث اذابه الراسب  
ج- تكوين AgCl<sub>2</sub>  
د- امتزاز ايون الفضة

88. تسمى طريقة معايره الكلوريد والبروميد مع محلول HNO<sub>3</sub> في وسط متعادل أو قاعدي خفيف مع استخدام كاشف من ايون الكرومات، طريقة:

- أ- فاجان  
ب- فولهارد  
ج- ارهينوس  
د- مور

89. كتلة هيدروكسيد الصوديوم اللازمة لتحضير محلول مائي حجمه 500 ml وتركيزه تساوي 0.3M هي:

(الاورزان الذريه H=1, O=16, N=23)

- أ- 6 gm  
ب- 12 gm  
ج- 0.6 gm  
د- 60 gm

90. قاعدية حامض الفوسفوريك تساوي:

- أ- 2  
ب- 1  
ج- صفر  
د- 3

91. عندما تكون قيمة p<sup>H</sup> تساوي 9 فإن قيمة p<sup>OH</sup> تساوي:

- أ- 5  
ب- 1  
ج- 2  
د- 14

92. إذا ارتفعت درجة الحرارة فان الموصلية الكهربائية للمحاليل الاليكترولتيه:

- أ- تزداد  
ب- تقل  
ج- لا تتأثر  
د- تزداد في حالات وتقل في اخرى

93. يوصف الحامض (بأنه المادة القادرة على منح بروتون (H<sup>+</sup>) وأما القاعده فهي الماده التي تستطيع تقبل البروتون) هذا الوصف يتفق مع مفهوم:

- أ- ليوشنلبييه  
ب- برونستد-لوري  
ج- نرنست  
د- فولهارد

94. تم اذابة عينه تحتوي حديد وزنها 20.10g في محلول قاعدي ليتم ترسيب الحديد على شكل Fe(OH)<sub>3</sub> وبعد ترشيح الراسب وحرقة تحول الى Fe<sub>2</sub>O<sub>3</sub>. اذا علمت أن وزن الراسب بعد الحرق 11.06 g فان النسبه المئويه للحديد في العينه تساوي:

(الاورزان الذريه H=1, O=16, Fe=55.85)

19.24% -ب- 38.49% -ا-

0.19% -د- 0.38% -ج-

95 معادله نرنست للتفاعل  $2 H^+ + 2 e^- \rightleftharpoons H_2(g)$  هي:

-ا-  $E = E^{\circ} - 0.0591/2 \text{Log} P_{H_2}/[H^+]^2$

-ب-  $E = E^{\circ} - 0.591/2 \text{Log} [H^+]^2 / P_{H_2}$

-ج-  $E = E^{\circ} + 0.0591/2 \text{Log} P_{H_2}/[H^+]$

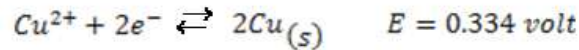
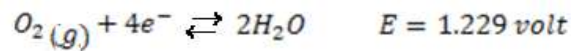
-د-  $E = E^{\circ} + 0.0591/2 \text{Log} [H^+]^2 / P_{H_2}$

96 محلول من كربونات الصوديوم  $Na_2CO_3$  تركيزه 10.6 w/v اذا علمت ان الوزن الجزيئي لـ  $Na_2CO_3$  يساوي 106 فإن عيارية المحلول (اساسيته) تساوي :

0.2 N -ب- 2.0 N -ا-

0.10 N -د- 1.0 N -ج-

97 قيمة الجهد اللازم لترسيب النحاس من محلول  $CuSO_4$  تركيز 0.01F ويحتوي على كميته كافيته من  $H_2SO_4$  المركز بتركيز ايون الهيدروجين  $[H^+]$  مقداره  $1 \times 10^{-4} M$  حسب التفاعلات النصف خلويه التالية يعادل إحدى القيم المذكورة أدناه:



0.517 V -ب- 0.715 V -ا-

0.0517 V -د- 0.0715 V -ج-

98 عدد الارقام المعنوية في العدد 0.024 هو:

2 -ب- 4 -ا-

10 -د- 3 -ج-

99 لون كاشف الفينولفثالين في المحيط الحامضي هو:

بنفسجي -ب- أخضر -ا-

برتقالي -د- عديم اللون -ج-

100 احد الاسباب الرئيسية لعدم استعمال NaOH كمادة قياسية في التحليل الحجمي هو:

لكونه عاشقا جيدا للماء -ب- درجة غليانه العاليه -ا-

عدم ذوبانه في الماء -د- لانه قاعدة قوية -ج-

انتهت الأسئلة